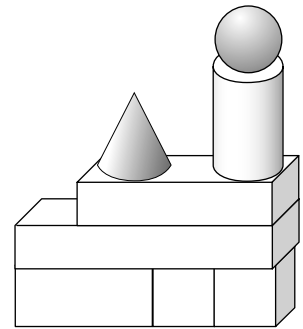
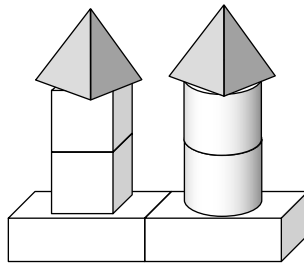
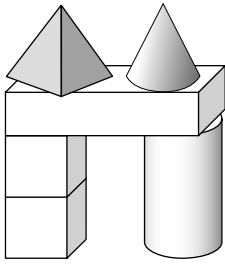


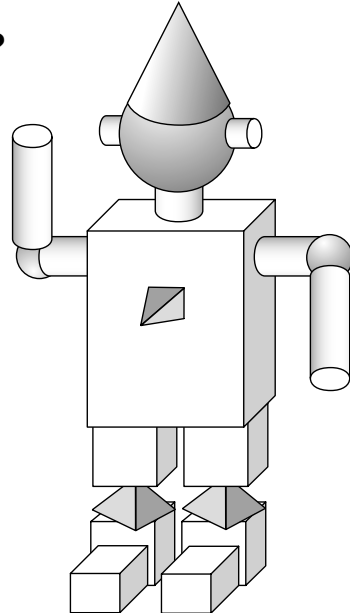
Welche geometrischen Körper sind es? (4)

1 Welche Körper wurden hier verbaut? Schreibe auf.



2 Würfel

2 Aus welchen Körpern besteht der Roboter? Schreibe in die Tabelle.




Kopf	Rumpf/Hals	Arme	Beine




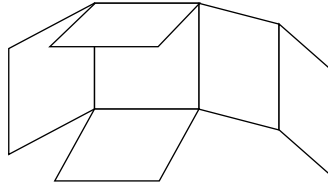
Würfelnetze (1)

Anne schneidet ihren Würfel auseinander.



Ich schneide einen Würfel an den Kanten auf. Mal sehen, was passiert. 

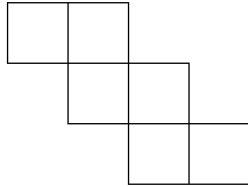
Es entsteht ein Würfelnetz.



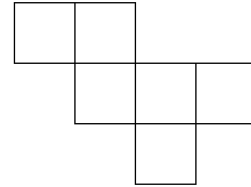
Es gibt noch andere Würfelnetze.

Tobias und Emily haben ihre Würfel anders aufgeschnitten. Ihre Netze sehen so aus:

Tobias



Emily



1 Rolle alle Seiten eines Spielwürfels ab. Finde möglichst viele verschiedene Würfelnetze.

